

CROCE ROSSA ITALIANA

PATENTE di GUIDA

MOD. 138/93

D) SEGNALETICA

D - SEGNALETICA

D 1	<p align="center">E' sempre obbligatorio l'uso degli indicatori di direzione per segnalare l'intenzione di effettuare un cambio di corsia ?</p> <p>1 - No, è facoltativo.</p> <p>2 - E' obbligatorio solo se vi sono, nelle vicinanze, altri veicoli.</p> <p>3 - Si, è sempre obbligatorio.</p>
D 2	<p align="center">In quali dei seguenti casi ha la massima rilevanza l'uso degli specchietti retrovisori ?</p> <p>1 - Prima di effettuare una svolta a destra.</p> <p>2 - Prima di effettuare un cambio di corsia.</p> <p>3 - Prima di imboccare una curva a sinistra.</p>
D 3	<p align="center">Quando su una strada a due corsie è obbligatorio marciare "il più possibile" vicino al margine destro della carreggiata ?</p> <p>1 - Quando la strada è a senso unico di circolazione.</p> <p>2 - Quando si intende effettuare una svolta a sinistra.</p> <p>3 - Quando incrociamo altri veicoli, o si percorrono curve o dossi.</p>
D 4	<p align="center">Quale dei seguenti comportamenti contribuisce a diminuire la stabilità del veicolo in curva ?</p> <p>1 - Percorrere la curva accelerando.</p> <p>2 - Percorrere la curva con la frizione premuta.</p> <p>3 - Percorrere la curva con una marcia del cambio troppo bassa.</p>
D 5	<p align="center">Se si aziona l'indicatore di direzione solo quando la manovra di svolta è già iniziata, si è in regola ?</p> <p>1 - Si.</p> <p>2 - No.</p> <p>3 - Si, se i veicoli che seguono e che provengono dal senso opposto non sono molto vicini.</p>
D 6	<p align="center">In quale caso è sempre vietato l'uso dei proiettori a luce abbagliante ?</p> <p>1 - Sulle autostrade.</p> <p>2 - In caso di scarsa visibilità per pioggia o nebbia.</p> <p>3 - In fase di incrocio con altri veicoli e nei centri abitati.</p>
D 7	<p align="center">In quale dei seguenti casi ha la massima rilevanza l'uso degli specchietti retrovisori ?</p> <p>1 - Prima di cambiare rapporti di velocità.</p> <p>2 - Prima di effettuare sorpassi in autostrada.</p> <p>3 - Prima di modificare l'assetto del sedile del posto di guida.</p>

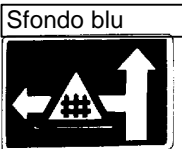


D - SEGNALETICA

D 8	<p style="text-align: center;">In quali dei seguenti casi è vietato l'uso dei proiettori a luce abbagliante ?</p> <p>1 - Sui dossi. 2 - Sulle strade extraurbane illuminate da insegne pubblicitarie. 3 - In fase di incrocio con altri veicoli.</p>
D 9	<p style="text-align: center;">Se cambiamo corsia senza esserci accertati di non essere causa di pericolo o intralcio, commettiamo un'infrazione ?</p> <p>1 - Sì, ma soltanto se non abbiamo fatto uso delle segnalazioni acustiche. 2 - Sì, 3 - No, se abbiamo azionato con sufficiente anticipo l'indicatore di direzione.</p>
D 10	<p style="text-align: center;">In quale caso è obbligatorio l'uso dei dispositivi di segnalazione visiva e di illuminazione dei veicoli prima che sia trascorsa mezz'ora dal tramonto del sole ?</p> <p>1 - Mai. 2 - Solo in caso di pericolo immediato. 3 - In ogni caso di scarsa visibilità.</p>
D 11	<p style="text-align: center;">Perchè l'uscita da una galleria può rappresentare un pericolo ?</p> <p>1 - Perchè si può incontrare improvvisamente una deviazione. 2 - Perchè generalmente la strada si restringe. 3 - Perchè il veicolo può essere investito lateralmente da una raffica di vento.</p>
D 12	<p style="text-align: center;">Quale segnalazione posteriore distingue un rimorchio da un autocarro ?</p> <p>1 - Un pannello rettangolare arancione. 2 - Un pannello quadrato a strisce bianche e rosse. 3 - Una coppia di catadiotri triangolari</p>
D 13	<p style="text-align: center;">A quale distanza deve essere visibile il segnale di veicolo fermo ?</p> <p>1 - A non più di 30 metri. 2 - Ad almeno 100 metri. 3 - Ad almeno 50 metri.</p>
D 14	<p style="text-align: center;">Quale dei seguenti elementi va tenuto presente per la valutazione della distanza di sicurezza ?</p> <p>1 - Efficienza del freno di stazionamento. 2 - Condizione del fondo stradale. 3 - Larghezza della carreggiata.</p>

D - SEGNALETICA

D 15	<p style="text-align: center;">In quale dei seguenti casi è vietato l'uso dei proiettori a luce abbagliante ?</p> <p>1 - Nelle curve. 2 - In caso di nebbia. 3 - In fase di incrocio con altri veicoli.</p>
D 16	<p style="text-align: center;">Durante la marcia, di notte su strade extraurbane mancanti di pubblica illuminazione, quali dispositivi vanno usati se non incrociamo altri veicoli e non si supera la velocità di 40 Km/ora ?</p> <p>1 - Soltanto i proiettori a luce abbagliante. 2 - Indifferentemente i proiettori a luce abbagliante o anabbagliante. 3 - Soltanto i proiettori a luce anabbagliante.</p>
D 17	<p style="text-align: center;">A quali veicoli circolanti su rotaie va data la precedenza anche se provengono da sinistra ?</p> <p>1 - Solo i tram extra-urbani. 2 - A tutti. 3 - Solo i tram urbani.</p>
D 18	<p style="text-align: center;">Quale dei seguenti elementi va tenuto presente per la valutazione della distanza di sicurezza ?</p> <p>1 - Larghezza della carreggiata. 2 - Marcia innestata nel cambio di velocità. 3 - Velocità del veicolo.</p>
D 19	<p style="text-align: center;">In quale dei seguenti casi è obbligatorio l'uso del segnale di veicolo fermo ?</p> <p>1 - In ogni caso di sosta fuori dei centri abitati. 2 - Fuori dei centri abitati nel caso che il veicolo resti fermo per un guasto nel tratto discendente di un dosso. 3 - Nei centri abitati, in caso di avaria.</p>
D 20	<p style="text-align: center;">Come bisogna comportarsi quando si trova un segnale di pericolo ?</p> <p>1 - Occorre accelerare per uscire prima dalla zona pericolosa. 2 - Basta mantenere la stessa velocità. 3 - Occorre moderare la velocità.</p>
D 21	<p style="text-align: center;">In quale dei seguenti casi è sempre vietato l'uso dei proiettori a luce abbagliante ?</p> <p>1 - Nelle curve. 2 - Nei centri abitati. 3 - In caso di nebbia.</p>

D - SEGNALETICA

<p>D 22</p>	<p>Quali dispositivi di segnalazione visiva e di illuminazione devono essere tenuti accesi durante la marcia di notte, in un centro abitato con nebbia che limiti la visibilità a 40 metri ?</p> <p>1 - Indifferentemente i proiettori a luce anabbagliante o le sole luci di posizione. 2 - I proiettori a luce anabbagliante. 3 - Le sole luci di posizione.</p>
<p>D 23</p>	<p>Oltre quale velocità è obbligatorio l'uso dei proiettori a luce abbagliante, di notte su strada extraurbana, se non si incrociano altri veicoli ?</p> <p>1 - Oltre 70 Km/ora 2 - A qualsiasi velocità 3 - Oltre 40 Km/ora</p>
<p>D 24</p>	<p>Dopo il segnale in figura, svoltando a sinistra, a quale distanza si trova il passaggio a livello ?</p> <p>1 - A meno di 150 metri 2 - A non meno di 150 metri 3 - A non meno di 300 metri</p> 
<p>D 25</p>	<p>E' obbligatorio dare la precedenza a destra e a sinistra</p> <p>1 - Ai veicoli marcianti su rotaie 2 - Quando si impegna una zona soggetta a circolazione rotatoria 3 - Negli incroci regolati da semaforo a luce gialla lampeggiante</p>
<p>D 26</p>	<p>Il passaggio a livello può essere caratterizzato dalla presenza di</p> <p>1 - Pannelli distanziometrici 2 - Cavalcavia ferroviario 3 - Sottopassaggio</p>
<p>D 27</p>	<p>Al centro di un crocevia, se il vigile preposto al traffico ha un braccio alzato verticalmente, come in figura</p> <p>1 - Equivale alla luce gialla del semaforo 2 - E' una fase riservata ai veicoli che devono svoltare 3 - Dobbiamo rallentare solo se nell'incrocio vi sono binari tranviari</p> 
<p>D 28</p>	<p>In un crocevia, se il vigile è a braccia distese orizzontalmente lungo la nostra direzione di marcia, come in figura</p> <p>1 - Ci è consentito il passaggio 2 - Dobbiamo necessariamente proseguire dritto 3 - Possono passare soltanto i veicoli che percorrono la strada incrociante</p> 

SOLUZIONI

D - segnaletica

D 1 risposta 3	D 15 risposta 3
D 2 risposta 2	D 16 risposta 2
D 3 risposta 3	D 17 risposta 2
D 4 risposta 2	D 18 risposta 3
D 5 risposta 2	D 19 risposta 1
D 6 risposta 3	D 20 risposta 3
D 7 risposta 2	D 21 risposta 2
D 8 risposta 3	D 22 risposta 2
D 9 risposta 2	D 23 risposta 3
D 10 risposta 3	D 24 risposta 1
D 11 risposta 3	D 25 risposta 1
D 12 risposta 3	D 26 risposta 1
D 13 risposta 2	D 27 risposta 1
D 14 risposta 2	D 28 risposta 1